


Lekse uke 38

4.trinn Dalabrekka skole


OPPGAVE D1. Hvor stor del er fargelagt



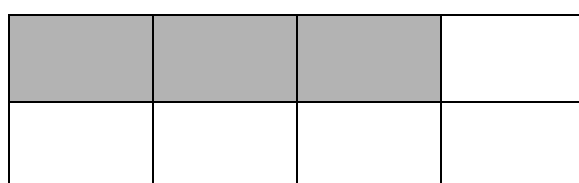
$$\frac{1}{3}$$



$$\frac{2}{8}$$




$$\frac{2}{4}$$




$$\frac{3}{4}$$



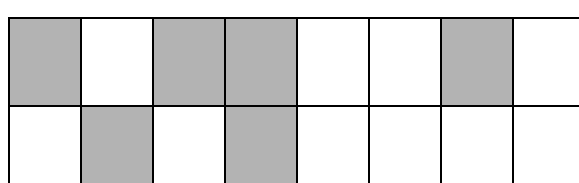
$$\frac{3}{4}$$



$$\frac{3}{6}$$



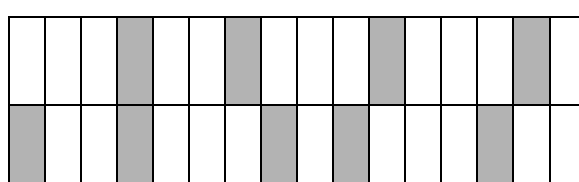
$$\frac{2}{3}$$



$$\frac{3}{8}$$



$$\frac{3}{3}$$



$$\frac{8}{16}$$

Lekse uke 38

4.trinn Dalabrekka skole

OPPGAVE D2

Sett brøkene i riktig rekkefølge, den minste brøken først

a) $\frac{1}{15}$, $\frac{1}{300}$, $\frac{1}{16}$, $\frac{1}{7}$, $\frac{1}{19}$, $\frac{1}{4}$, $\frac{1}{8}$, $\frac{1}{12}$, $\frac{1}{1}$

Skriv brøkene her.

— , — , — , — , — , — , — , — , —

Sett brøkene i riktig rekkefølge, den største brøken først

b) $\frac{1}{7}$, $\frac{1}{2}$, $\frac{1}{15}$, $\frac{1}{3}$, $\frac{1}{19}$, $\frac{1}{81}$, $\frac{1}{4}$, $\frac{1}{19}$, $\frac{1}{15}$

Skriv brøkene her.

— , — , — , — , — , — , — , — , —

OPPGAVE D3

1							
$\frac{1}{2}$				$\frac{1}{2}$			
$\frac{1}{4}$		$\frac{1}{4}$		$\frac{1}{4}$		$\frac{1}{4}$	
$\frac{1}{8}$	$\frac{1}{8}$	$\frac{1}{8}$	$\frac{1}{8}$	$\frac{1}{8}$	$\frac{1}{8}$	$\frac{1}{8}$	$\frac{1}{8}$

a) Hvor mye er det dobbelte av $\frac{1}{8}$? _____

b) Hvor mye er det dobbelte av $\frac{1}{2}$? _____

c) Hvor mye er halvparten av $\frac{1}{2}$? _____

d) Hvor mye er halvparten av $\frac{1}{8}$? _____

Lekse uke 38

4.trinn Dalabrekka skole

OPPGAVE D4

HELE		DESIMALER		
tiere	enere	,	tideler	hundredeler
		,		
		,		
		,		
		,		
		,		
		,		
		,		
		,		
		,		
		,		
		,		
		,		
		,		
		,		

Skriv følgende tall inn i tallhuset. De største først, deretter det nest største, og så videre...

49,31	39,22	12,50	19,3	2,34	9,99	70,1	3,99	2,44	9,02	0,99
-------	-------	-------	------	------	------	------	------	------	------	------

OPPGAVE D5

Sett under hverandre og regn ut:

a) $42,31 + 37,22 =$

b) $2,4 + 9,99 =$

c) $2,34 + 9,0 =$

d) $12,50 + 29,3 =$

e) $50,1 + 3,98 =$

f) $0,99 + 0,01 =$