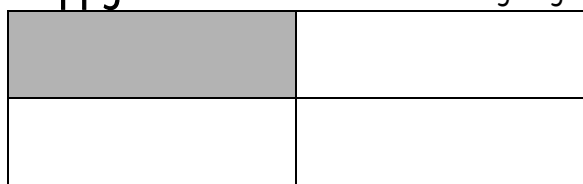


Oppgave 1. Hvor stor del er fargelagt



$$\frac{1}{4}$$



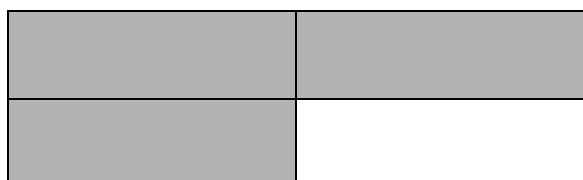
$$\frac{1}{4}$$




$$\frac{2}{4}$$



$$\frac{3}{4}$$



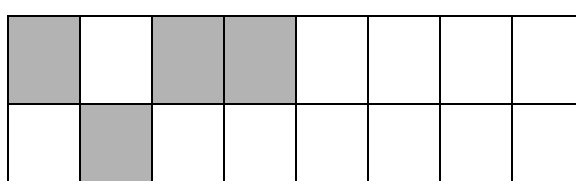
$$\frac{3}{4}$$




$$\frac{3}{6}$$




$$\frac{2}{3}$$



$$\frac{3}{8}$$



$$\frac{3}{3}$$



$$\frac{1}{1}$$

Oppgave 2

Sett brøkene i riktig rekkefølge, den minste brøken først

a) $\frac{1}{5}$, $\frac{1}{3}$, $\frac{1}{6}$, $\frac{1}{7}$, $\frac{1}{9}$, $\frac{1}{4}$, $\frac{1}{8}$, $\frac{1}{12}$, $\frac{1}{1}$

Skriv brøkene her.

____ , ____ , ____ , ____ , ____ , ____ , ____ , ____ , ____ , ____

Sett brøkene i riktig rekkefølge, den største brøken først

b) $\frac{1}{7}$, $\frac{1}{2}$, $\frac{1}{5}$, $\frac{1}{3}$, $\frac{1}{9}$, $\frac{1}{8}$, $\frac{1}{4}$, $\frac{1}{19}$, $\frac{1}{15}$

Skriv brøkene her.

____ , ____ , ____ , ____ , ____ , ____ , ____ , ____ , ____ , ____

Oppgave 3

1							
$\frac{1}{2}$				$\frac{1}{2}$			
$\frac{1}{4}$		$\frac{1}{4}$		$\frac{1}{4}$		$\frac{1}{4}$	
$\frac{1}{8}$	$\frac{1}{8}$	$\frac{1}{8}$	$\frac{1}{8}$	$\frac{1}{8}$	$\frac{1}{8}$	$\frac{1}{8}$	$\frac{1}{8}$

a) Hvor mye er det dobbelte av $\frac{1}{4}$? _____

b) Hvor mye er det dobbelte av $\frac{1}{8}$? _____

c) Hvor mye er halvparten av $\frac{1}{2}$? _____

d) Hvor mye er halvparten av $\frac{1}{4}$? _____